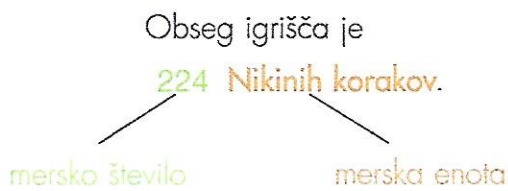



Matej je obhodil šolsko igrišče in pri tem naštel 196 korakov.

S koraki je izmeril **obseg** igrišča.


Tudi Nika je s koraki izmerila obseg igrišča in pri tem naštela 224 korakov.



Žakaj je Nika naštela več korakov kot Matej?



Matej in Nika sta izmerila obseg igrišča z metrsko palico. Izmerila sta 128 m.



1. Izmeri obseg časopisne strani z zobotrebci, s svinčniki ali kredo.
2. Z metriskim trakom izmeri obsege oglasne deske, table in telovadne blazine.